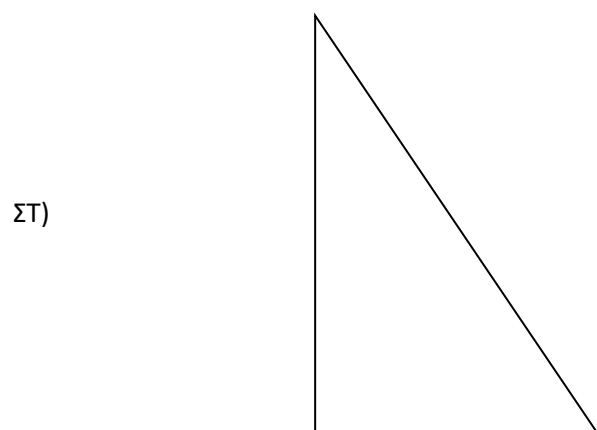
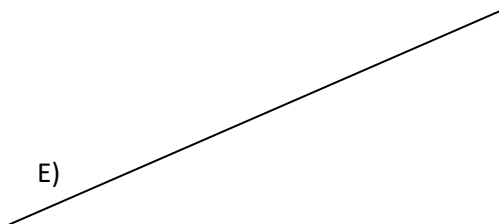

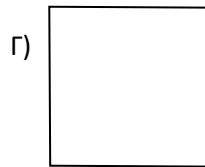
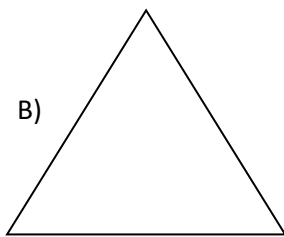


ΓΕΩΜΕΤΡΙΑ – ΒΑΣΙΚΑ ΣΧΗΜΑΤΑ

Αντιστοιχίστε κάθε σχήμα με την ονομασία του:



1. τρίγωνο
2. Ορθογώνιο παρα/μο
3. παραλληλόγραμμο
4. τετράγωνο
5. ορθογώνιο τρίγωνο
6. ευθεία